
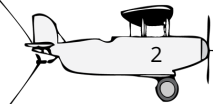


Ένωσε τα αεροπλάνα με τις απαντήσεις - πρόσεχε μην χτυπήσεις πάνω σε άλλα σύννεφα.


Στην εικόνα ο βάτραχος βρίσκεται δεξιά από τη μύγα.



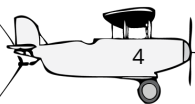
Στην εικόνα η μύγα βρίσκεται κάτω από το βάτραχο.



Αυτός είναι ένας κύκλος: Ο



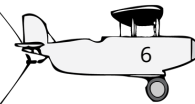
Αυτό είναι ένα τρίγωνο: Δ



Πόσα τρίγωνα βλέπεις; Δ Δ Δ



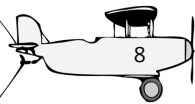
Πόσα τρίγωνα βλέπεις; Δ Δ



Πόσους κύκλους βλέπεις; Ο Ο Ο Ο Ο



1 και 3 μας κάνει:



2 και 3 μας κάνει:



Κατεβαίνω ανά 2: 10, 8, 6,

