




1. Στην εικόνα ο βάτραχος βρίσκεται δεξιά από τη μύγα.




2. Στην εικόνα η μύγα βρίσκεται κάτω από το βάτραχο.




3. Αυτός είναι ένας κύκλος: Ο




4. Αυτό είναι ένα τρίγωνο: Δ




5. Πόσα τρίγωνα βλέπεις; Δ Δ Δ




6. Πόσα τρίγωνα βλέπεις; Δ Δ




7. Πόσους κύκλους βλέπεις; Ο Ο Ο Ο



8. 1 και 3 μας κάνει:



9. 2 και 3 μας κάνει:



10. Κατεβαίνω ανά 2: 10, 8, 6, ...

